



MUNICÍPIO DE VIAMÃO
ESTADO DO RIO GRANDE DO SUL
CONCURSO PÚBLICO Nº 01/2011

DESENHISTA PROJETISTA

INSTRUÇÕES

Leia atentamente e cumpra rigorosamente as instruções que seguem, pois elas são parte integrante das provas e das normas que regem este Concurso Público.

1. Verifique se o cargo constante na capa deste caderno é o mesmo para o qual realizou a inscrição.
2. Cada questão oferece 5 (cinco) alternativas de respostas, representadas pelas letras **A, B, C, D** e **E**, sendo apenas 1 (uma) a resposta correta.
3. O tempo para a realização da prova é de 3 horas, incluindo o preenchimento da grade de respostas. O candidato só poderá retirar-se do recinto da prova, portando o caderno de provas, após transcorrida 1 hora e 30 minutos de seu início. Os dois últimos candidatos deverão retirar-se da sala de prova ao mesmo tempo, devendo assinar a ata da sala.
4. Nenhuma informação sobre as instruções e/ou sobre o conteúdo das questões será dada pelo fiscal, pois são parte integrante da prova.
5. No caderno de prova, o candidato poderá rabiscar, riscar, calcular, etc.
6. Os gabaritos preliminares da prova objetiva serão divulgados no dia 10/01/2012, até as 18h, na Internet, no portal da Fundatec (www.fundatec.org.br) e da Prefeitura Municipal de Viamão (www.viamao.rs.gov.br).
7. Certifique-se de que este caderno contém 40 (quarenta) questões. Caso contrário, solicite ao fiscal da sala a sua substituição.



Instrução: As questões de números 01 a 10 referem-se ao texto abaixo.

Vou confessar

01 Tenho um problema muito sério com o Natal — amo essa data. Adoraria ser amargo e intelectual,
02 dizer que o Natal virou uma festa pagã em que só se pensa em comer e dar presentes, que Papai Noel é
03 uma imposição imperialista, mas fato é que gosto de tudo isso, sem um pinga de vergonha. Acho incrível
04 reunir a família — mesmo que por imposição — e, se a ceia terminar em lágrimas, acontece: quem disse
05 que é preciso ser feliz o tempo inteiro?

06 Muita gente argumenta que a saudade dos entes queridos que já se foram aumenta nessa época do
07 ano, portanto o Natal seria uma festa triste, de ausências. Vamos tentar enxergar por outro lado: com o
08 corre-corre das nossas vidas, quando é que temos tempo de pensar neles, de evocar sua lembrança? De
09 vez em quando, me pego culpado por não pensar tanto em minha avó maravilhosa, que passava o mês
10 inteiro preparando os coscolovi (doces natalinos italianos) para nós, nos meus pais, que ralaram tanto para
11 me passar o mínimo de educação, nos amigos maravilhosos que nos deixaram tão precocemente. Eles
12 merecem ___ homenagem do nosso pensamento e dos nossos olhos úmidos.

13 No Natal, sou despidoradamente feliz, e poucas coisas me dão mais alegria do que sair ___
14 procura de lembrancinhas para as pessoas de que eu gosto — só adoraria ser mais precavido e começar
15 as compras em março, quando os shoppings não estão lotados. Nos embrulhos, coloco cartões que preparo
16 com duas semanas de antecedência. Tento dizer tudo aquilo que não consegui dizer ao longo do ano, o
17 quanto as pessoas são importantes e o que elas representam para mim, e agradeço o carinho e a paciência
18 da convivência. E sou incapaz de abrir um presente que não venha com cartão; é o embrulho que
19 acompanha as palavras, não o contrário.

20 Muita gente diz que aquela orgia alimentar daria para matar a fome na África. E como presentear as
21 crianças quando tantas não ganham nada? É bom, sim, com tantos presentes na árvore, fazer uma faxina
22 geral nos armários e separar o que sobra para dar a quem não tem nada. Doar a um desconhecido, sem
23 esperar retorno, agir como Papai Noel, que, francamente, passa o ano inteiro fabricando presentes sem
24 receber nenhum. E, mesmo gordo, velho e tendo que se enfiar em chaminés todas as noites, ele é feliz e ri
25 ___ toa. Fica a lição.

26 Não me joguem pedras, mas eu tenho que assumir que gosto de Natal, de pinheiros e enfeites, de
27 presentes, daquelas comidas deliciosas, do ambiente religioso que se impõe mesmo aos ateus de pai e
28 mãe. E da *o-bri-ga-ção* de estar em família. Nem sempre tenho tempo para ela, o que faz de mim uma
29 pessoa eternamente culpada, portanto o Natal é uma excelente desculpa para estarmos todos juntos,
30 falantes e cobrando maior presença uns dos outros — até o Natal seguinte, claro.

31 Virou chique declarar o ódio ao Natal. Quando divido com os outros minha alegria ___ respeito
32 dessa época do ano, sou chamado de bobo, capitalista e naïf; sou tratado como um ET e até com um certo
33 olhar de condescendência. Não me importa: faz tempos em que estou tentando me libertar das chiquerias
34 da vida em busca de uma cafonice autêntica, simples e genuína.

35 Em busca da alegria que a gente tinha quando era criança e inocente e acreditava em família unida
36 para sempre, na imortalidade das pessoas que a gente ama, na felicidade eterna e, por que não, em Papai
37 Noel.

(Fonte: Bruno Astuto – Revista Época – 18/12/2011 – disponível em <http://www.revistaepoca.com.br> – adaptação)

QUESTÃO 01 – Analise as afirmações abaixo, em relação ao assunto discutido no texto.

- I. Para o autor, o Natal é uma festa amarga e intelectual, da qual ele sente vergonha de gostar.
- II. O autor contrapõe o argumento de que o Natal seria uma festa de ausências, colocando a data como uma oportunidade para lembrar-se dos entes queridos que se foram e homenageá-los.
- III. Ao afirmar que “o embrulho que acompanha as palavras” (l. 18 e 19), o autor destaca a importância dos presentes de Natal em oposição às mensagens natalinas.

Quais estão corretas?

- A) Apenas I.
- B) Apenas II.
- C) Apenas III.
- D) Apenas I e II.
- E) Apenas II e III.

QUESTÃO 02 – Considerando-se o emprego do acento indicativo de crase, assinale a alternativa que preenche, correta e respectivamente, as lacunas das linhas 12, 13, 25 e 31.

- A) a – a – à – à
- B) a – à – à – à
- C) a – à – à – a
- D) à – à – a – a
- E) à – a – a – a

QUESTÃO 03 – Assinale a alternativa em que NÃO haja o emprego de linguagem figurada.

- A) “sem um pingo de vergonha” (l. 03).
- B) “que ralaram tanto para me passar o mínimo de educação” (l. 10 e 11).
- C) “nos amigos maravilhosos que nos deixaram tão precocemente” (l. 11).
- D) “Não me joguem pedras” (l. 26).
- E) “sou chamado de bobo, capitalista e naïf” (l. 32).

QUESTÃO 04 – Considerando o emprego dos vocábulos em língua portuguesa, analise as assertivas a seguir:

- I. O emprego da palavra “obrigação” (l. 28) separada silabicamente é um recurso estilístico que visa reforçar a ideia transmitida por ela.
- II. O vocábulo “chiquerias” (l. 33) não é um vocábulo existente em língua portuguesa, mas uma criação do autor para transmitir a ideia de “coisas chiques”.
- III. “cafonice” (l. 34) é um neologismo que não pertence à língua portuguesa e foi criado a partir do adjetivo “cafona”.

Quais estão corretas?

- A) Apenas I.
- B) Apenas II.
- C) Apenas III.
- D) Apenas I e II.
- E) Apenas II e III.

QUESTÃO 05 – Considerando as relações de concordância, quantas outras alterações deveriam ser feitas no período, caso alterássemos a forma “ele” (l. 24) por “eles”?

- A) 3.
- B) 4.
- C) 5.
- D) 6.
- E) 7.

QUESTÃO 06 – Considerando o emprego correto dos sinais de pontuação, analise as assertivas a seguir:

- () Na linha 04, os dois pontos introduzem uma interrogação direta.
- () Na linha 10, os parênteses são empregados para separar uma expressão de caráter explicativo.
- () Na linha 18, o emprego do ponto e vírgula deve-se à separação de duas orações coordenadas, cuja conjunção que as liga foi omitida.
- () O emprego das duas primeiras vírgulas na linha 21 deve-se à mesma situação de ocorrência das duas primeiras vírgulas da linha 24.

A ordem correta de preenchimento dos parênteses, de cima para baixo, é:

- A) V – V – V – F.
- B) V – V – F – F.
- C) F – V – F – V.
- D) F – F – V – V.
- E) F – F – F – V.

QUESTÃO 07 – Na linha 31, a conjunção “Quando” expressa ideia de _____ e poderia ser substituída por _____ desde que _____ feitas alterações na forma verbal que a sucede.

Qual alternativa preenche, correta e respectivamente, as lacunas da afirmação anterior?

- A) causa – Sempre que – sejam
- B) causa – Sempre que – não sejam
- C) tempo – Ao – sejam
- D) tempo – Ao – não sejam
- E) tempo – Sempre que – não sejam

QUESTÃO 08 – Assinale a alternativa que apresenta classificação INCORRETA dos advérbios.

- A) muito (l. 01) – intensidade.
- B) só (l. 02) – modo.
- C) mais (l. 13) – intensidade.
- D) sim (l. 21) – afirmação.
- E) sempre (l. 28) – tempo.

QUESTÃO 09 – Assinale a alternativa cujo vocábulo NÃO poderia substituir a palavra “condescendência” (l. 33), pois a substituição acarretaria mudanças do sentido original do texto.

- A) anuência.
- B) transigência.
- C) cessão.
- D) complacência.
- E) paciência.

QUESTÃO 10 – Considerando as relações de referência estabelecidas pelos pronomes, analise as assertivas a seguir:

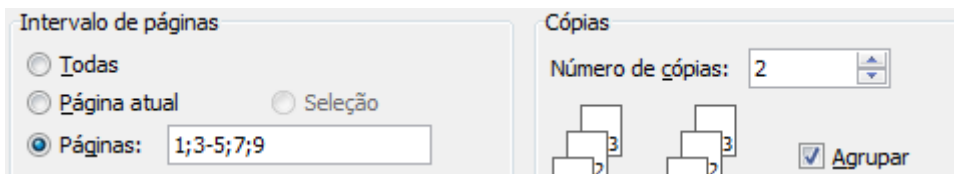
- I. Na linha 08, a forma pronominal “neles” refere-se a “entes queridos” (l. 06).
- II. O uso do pronome possessivo “nosso” (l. 12) indica que o autor inclui o leitor em sua argumentação, ao mesmo tempo em que se exclui dela.
- III. Na linha 21, o pronome indefinido “tantas” refere-se ao substantivo “crianças” (l. 21).

Quais estão corretas?

- A) Apenas I.
- B) Apenas II.
- C) Apenas I e II.
- D) Apenas I e III.
- E) Apenas II e III.

INFORMÁTICA

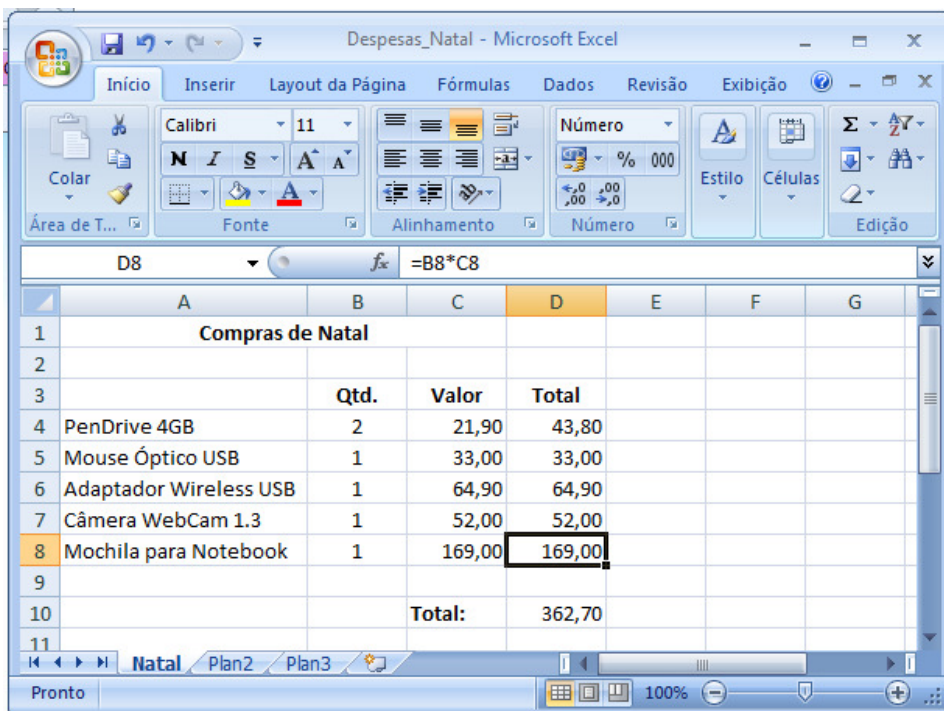
QUESTÃO 11 – A figura abaixo mostra uma parte da tela de configuração de impressão do Microsoft Word 7.



Em relação a esta figura, pode-se afirmar que:

- A) Serão impressas 6 páginas.
- B) Todas as páginas do documento serão impressas.
- C) Serão impressas somente páginas ímpares.
- D) A página 8 será impressa.
- E) Serão impressas 12 páginas.

Para a resolução das questões 12 e 13, considere a figura abaixo, que contém uma planilha desenvolvida no Microsoft Excel.



QUESTÃO 12 – Analise as seguintes afirmações:

- I. O nome da planilha apresentada é *Despesas_Natal*.
- II. O texto *Compras de Natal* está situado na célula B1.
- III. A formatação da célula D8 utiliza a categoria “Moeda”, para valores monetários.
- IV. Uma fórmula correta para calcular o valor total de compras (na célula D10) é =SOMA(D4:D8)

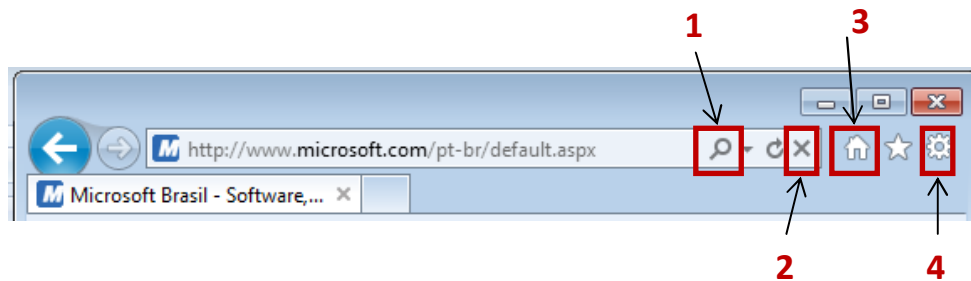
Quais estão corretas?

- A) Apenas II.
- B) Apenas IV.
- C) Apenas I e III.
- D) Apenas I e IV.
- E) Apenas II e III.

QUESTÃO 13 – Considere a célula D8 apresentada na figura. Ao se arrastar a alça de preenchimento sobre a célula E8 e soltar o botão do mouse, qual será o conteúdo desta célula?

- A) O resultado de =B8*C8
- B) O resultado de =B9*C9
- C) Uma mensagem de erro
- D) O valor 169,00
- E) O resultado de =C8*D8

QUESTÃO 14 – Analise a seguinte figura:





Os botões identificados pelos números 1, 2, 3 e 4 na figura acima (extraída do Windows Internet Explorer 9), correspondem, respectivamente, às ações:

- A) Pesquisar, fechar janela, definir como página inicial e atualizar página.
- B) Aumentar zoom, fechar guia, ir para a página inicial e abrir menu Ferramentas.
- C) Pesquisar, interromper download da página, ir para a página inicial e abrir menu Ferramentas.
- D) Diminuir zoom, interromper download da página, definir como página inicial e atualizar página.
- E) Aumentar zoom, fechar página, ir para a página inicial e abrir menu Favoritos.

QUESTÃO 15 – Marque a afirmação que NÃO corresponde a uma ação válida no Microsoft Excel 2007.

- A) Para que um texto apareça em várias linhas na célula, no Microsoft Excel 2007, é possível formatá-la de forma que o texto seja quebrado automaticamente, clicando no botão “*Quebrar texto Automaticamente*”, na guia “*Alinhamento*”.
- B) Para que uma referência de célula se torne absoluta, deve-se utilizar o caractere #.
- C) O modo de exibição “*Visualização da Quebra de Página*” mostra as quebras inseridas manualmente como linhas sólidas, e as linhas tracejadas indicam onde o Excel insere quebras de página automaticamente.
- D) É possível adicionar ou alterar cabeçalhos ou rodapés a fim de fornecer informações úteis nas impressões da planilha.
- E) Ao se utilizar o recurso de congelar painéis, são selecionadas linhas ou colunas específicas que permanecem visíveis durante a rolagem da planilha.

QUESTÃO 16 – Para organizar os sites favoritos em ordem alfabética, no Windows Internet Explorer 9, deve-se

- A) clicar no ícone , selecionar a aba Favoritos, clicar com o botão direito do mouse em qualquer item e selecionar Classificar por Nome.
- B) clicar na Barra de Favoritos com o botão direito e clicar em Ordenar por Nome.
- C) clicar em um dos Favoritos na Barra de Favoritos com o botão direito do mouse e clicar em Classificar por Nome.
- D) clicar no menu Favoritos e, a seguir, em Organizar Favoritos.
- E) clicar no ícone  com o botão direito do mouse e selecionar Organizar Favoritos.



QUESTÃO 17 – Para se alternar entre as guias de navegação do Internet Explorer e do Mozilla Firefox, deve-se utilizar a(s) tecla(s):

- A) Alt + Tab
- B) Ctrl + Tab
- C) Shift + Tab
- D) Tab
- E) F5

QUESTÃO 18 – Para evitar a necessidade de inserção de quebras de páginas manuais em documentos, no Microsoft Word 2007, é possível definir opções para controlar onde o Word posiciona as quebras de páginas automáticas. Uma destas opções é o controle de linhas órfãs e viúvas, que serve para

- A) evitar quebras de página entre parágrafos.
- B) colocar pelo menos duas linhas de um parágrafo no topo ou na parte inferior de uma página.
- C) evitar quebras de página em uma linha de tabela.
- D) especificar uma quebra de página depois de um determinado parágrafo.
- E) evitar quebras de página no meio de um parágrafo.

QUESTÃO 19 – Considere as seguintes afirmações em relação ao Microsoft Word 2007:

- I. O botão  serve para copiar a formatação de um local e aplicá-la a outro.
- II. É possível converter uma tabela em texto.
- III. O botão  é utilizado para fazer um realce do texto.
- IV. É possível inserir diferentes cabeçalhos e rodapés em um mesmo documento.

Quais estão corretas?

- A) Apenas I e III.
- B) Apenas I e IV.
- C) Apenas II e III.
- D) Apenas II e IV.
- E) Apenas I, II e IV.

QUESTÃO 20 – Em relação aos Modos de Exibição de Documento disponíveis no Microsoft Word 2007, estão disponíveis na guia Exibição as seguintes opções, EXCETO:

- A) Layout de Impressão.
- B) Estrutura de Tópicos.
- C) Layout da Web.
- D) Leitura em Duas Colunas.
- E) Rascunho.

LEGISLAÇÃO

QUESTÃO 21 – As atribuições do Agente Comunitário de Saúde estão dispostas no art. 3º da Lei nº 11.350/2006 do Município de Viamão, sendo elas atividades de prevenção de doenças e de promoção da saúde.

Identifique qual das ações abaixo NÃO é considerada uma atividade do Agente Comunitário de Saúde na sua área de atuação.

- A) Utilização de instrumentos para diagnóstico demográfico e sociocultural da comunidade.
- B) Distribuição de alimentos em áreas de difícil acesso.
- C) Promoção de ações de educação para a saúde individual e coletiva.
- D) Registro, para fins exclusivos de controle e planejamento das ações de saúde, de nascimentos, óbitos, doenças e outros agravos à saúde.
- E) Realização de visitas domiciliares periódicas para monitoramento de situações de risco à família.

QUESTÃO 22 – As atividades de vigilância, prevenção e controle de doenças e promoção da saúde, desenvolvidas em conformidade com as diretrizes do SUS e sob supervisão do gestor de cada ente federado são atribuições do servidor público denominado

- A) Agente de Controle Regimental.
- B) Auxiliar de Coordenação Sanitária.
- C) Coordenador de Campanhas Preventivas.
- D) Agente de Combate às Endemias.
- E) Auxiliar Comunitário de Saúde.

QUESTÃO 23 – Os cargos públicos no Município de Viamão, conforme a legislação que define o Regime Jurídico Único, NÃO serão providos por:

- A) Nomeação.
- B) Indicação.
- C) Recondição.
- D) Readaptação.
- E) Reversão.

QUESTÃO 24 – Conforme o art. 20 da Lei Municipal n° 2.663/98 do Município de Viamão, o servidor nomeado por concurso público adquire a estabilidade após _____ de efetivo exercício.

Assinale a alternativa que preenche corretamente a lacuna do trecho acima.

- A) um ano
- B) dois anos
- C) três anos
- D) cinco anos
- E) dez anos

QUESTÃO 25 – Ao entrar em exercício, o servidor nomeado para cargo de provimento efetivo ficará sujeito a estágio probatório, durante o qual a sua aptidão e capacidade serão objeto de avaliação para o desempenho do cargo, observados diversos quesitos.

Dentre as alternativas abaixo, qual quesito NÃO é previsto na legislação dos Servidores Públicos do Município de Viamão como objeto de avaliação para o desempenho do cargo?

- A) Pontualidade.
- B) Disciplina.
- C) Participação política.
- D) Responsabilidade.
- E) Relacionamento.

QUESTÃO 26 – NÃO é penalidade disciplinar possível de ser aplicada aos Servidores Públicos do Município de Viamão:

- A) Advertência.
- B) Demissão.
- C) Gancho.
- D) Cassação de aposentadoria e disponibilidade.
- E) Destituição de cargo ou função de confiança.

QUESTÃO 27 – Na Lei Orgânica do Município de Viamão, conforme dispõe o Parágrafo Único do art. 19, “As contas do Município ficarão à disposição de qualquer contribuinte, a partir da data da remessa das mesmas ao Tribunal de Contas do Estado, pelo prazo de _____, para exame e apreciação, podendo ser questionada a legitimidade de qualquer despesa.”

Assinale a alternativa que preenche corretamente a lacuna do trecho acima.

- A) quinze dias
- B) trinta dias
- C) sessenta dias
- D) um ano
- E) cinco anos

QUESTÃO 28 – A Câmara de Vereadores do Município de Viamão, conforme a sua Lei Orgânica, tendo recebido formalmente informação de fatos, em princípio irregulares, e pretendendo esclarecer essa situação, poderá criar _____ sobre fato determinado e por prazo certo, nos termos do Regimento Interno, a requerimento de, no mínimo, um terço de seus membros.

Assinale a alternativa que preenche corretamente a lacuna do trecho acima.

- A) Procedimento Criminal Indefinitório
- B) Congresso de Definição Parlamentar
- C) Comissão Parlamentar de Inquérito
- D) Inquirição Jurídica dos Fatos
- E) Diretoria de Eliminação de Dúvidas

QUESTÃO 29 – O acesso às classes superiores pelos Servidores Públicos do Município de Viamão, conforme seu Plano de Carreira deve adotar critérios objetivos de avaliação e assegurar o sistema de promoção por: _____ e _____.

Assinale a alternativa que preenche, correta e respectivamente, as lacunas do trecho acima.

- A) relacionamento social – conduta pessoal
- B) características étnicas – definição eleitoral
- C) compromisso moral – dedicação operativa
- D) antiguidade – merecimento
- E) conhecimento profissional – relacionamento social

QUESTÃO 30 – A Lei Orgânica do Município de Viamão define que é dever do Município a extensão progressiva do saneamento básico a toda a população urbana e rural como condição básica da qualidade de vida, da proteção ambiental e do desenvolvimento social.

Define também que o saneamento básico é composto pelos serviços de

- A) telefonia pública, sanitários, construção de praças públicas, limpeza de jardins residenciais e condominiais.
- B) esgotamento sanitário, drenagem e limpeza urbana, manutenção elétrica e industrial.
- C) drenagem e limpeza urbana, abastecimento ambiental e conservação tributária.
- D) esgotamento sanitário, drenagem, combate à violência, defesa social e limpeza urbana.
- E) abastecimento de água, esgotamento sanitário, drenagem e limpeza urbana.

CONHECIMENTOS ESPECÍFICOS

QUESTÃO 31 – A escala é utilizada para obter desenhos adaptados aos tamanhos de prancha. Desenha-se na escala 1:100 para representar objetos

- A) uma vez maior.
- B) 10 vezes maior.
- C) 100 vezes maior.
- D) 1.000 vezes maior.
- E) 10.000 vezes maior.

QUESTÃO 32 – A diferença de espessuras no traço de desenho representa regiões cortadas e também diferenças de profundidade, sendo desenhados o mais perto e respectivamente o mais distante em traços

- A) grosso (0,6)mm e fino (0,2)mm.
- B) grosso (0,2)mm e fino (0,1)mm.
- C) grosso (0,1)mm e fino (0,2)mm.
- D) fino (0,5)mm e grosso (0,2)mm.
- E) fino (0,2)mm e grosso (0,5)mm.

QUESTÃO 33 – Viga de baldrame é a viga posicionada

- A) sob a fundação e sobre a parede, transversal aos alicerces e entre blocos de sapatas ou estacas.
- B) sobre a fundação e sob a parede, ao longo de alicerces e entre blocos de sapatas ou estacas.
- C) como elemento estrutural vertical de concreto, que descarrega na fundação o peso de pilares.
- D) como cinta, que fica sobre as paredes de uma residência ou edifício.
- E) como viga de amarração, que fica sobre as paredes de uma residência ou edifício.

QUESTÃO 34 – Em uma parede de 10 metros quadrados com tijolos de 6 furos redondos assentados a cutelo com dimensões (9 x 14 x 19)cm, considerando ambos rejuntas de 1 cm, serão consumidos quantos tijolos?

- A) 50.
- B) 190.
- C) 233.
- D) 334.
- E) 500.

QUESTÃO 35 – O revestimento em reboco de três massas é constituído por salpique, no traço

- A) 1:3, emboço traço 1:6 e reboco de massa grossa traço 1:3.
- B) 1:6, emboço traço 1:3 e reboco de massa grossa traço 1:8.
- C) 1:8, emboço traço 1:6 e reboco de massa fina traço 1:3.
- D) 1:3, emboço traço 1:3 e reboco de massa fina traço 1:3.
- E) 1:3, emboço traço 1:6 e reboco de massa fina traço 1:8.

QUESTÃO 36 – Para representar em corte uma viga de concreto de dimensões (25 x 50)cm na escala 1:50, é correto afirmar que se desenha

- I. o contorno com traço grosso.
- II. a hachura com pequenos triângulos irregulares para representar a areia.
- III. a sequência de pontos para representar a brita.

Quais estão corretas?

- A) Apenas I.
- B) Apenas II.
- C) Apenas III.
- D) Apenas I e II.
- E) I, II e III.

QUESTÃO 37 – Avalie as assertivas a seguir, em relação às convenções de representação no desenho de projeto elétrico:

- I. Tomadas por triângulos.
- II. Interruptores por retângulos.
- III. Caixas de passagem na laje por hexágonos.

Quais estão corretas?

- A) Apenas I.
- B) Apenas II.
- C) Apenas III.
- D) Apenas I e II.
- E) I, II e III.

QUESTÃO 38 – Conforme norma de desenho para instalações hidráulicas, representa-se o reservatório superior com tubulações de

- A) recalque composto por torneira elétrica e tubulações para extravasar e tubulações de distribuição do reservatório.
- B) abastecimento composto por torneira boia e canalizações para extravasar e limpar o reservatório.
- C) recalque composto por torneira boia e tubulações para extravasar e tubulações de distribuição do reservatório.
- D) recalque composto por torneira elétrica e tubulações para ladrão e de limpeza do reservatório.
- E) distribuição comandada por boia elétrica e canalizações para extravasar e de limpeza do reservatório.

QUESTÃO 39 – Setas são utilizadas para representar inclinações de planos em vista, deslocamento de esquadrias, inclinações de rampas e telhados. Em relação a essas informações, analise as assertivas a seguir:

- I. Nas esquadrias, a seta aponta no sentido do deslocamento de abertura quando desenhada fechada.
- II. Nas rampas, a seta indica o sentido da descida.
- III. Nos telhados, aponta o sentido da descida.

Quais estão corretas?

- A) Apenas I.
- B) Apenas II.
- C) Apenas III.
- D) Apenas I e III.
- E) I, II e III.

QUESTÃO 40 – Avalie as assertivas a seguir sobre o desenho em CAD (Desenho Assistido por Computador), com o programa atualizado AutoCAD da Autodesk:

- I. Utilizam-se ícones como ferramentas de desenho, edição e inserção.
- II. É possível anexar assinaturas digitais.
- III. O programa utiliza gerenciamento de referências e verificador de normas em lote.

Quais estão corretas?

- A) Apenas I.
- B) Apenas II.
- C) Apenas III.
- D) Apenas I e II.
- E) I, II e III.

[Fechar](#)

Cargo: 7 - Desenhista Projetista

(*) Questão(ões) anulada(s) - a pontuação será revertida a todos os candidatos

Questão	Respostas	Componente
1	B	LÍNGUA PORTUGUESA
2	C	LÍNGUA PORTUGUESA
3	E	LÍNGUA PORTUGUESA
4	D	LÍNGUA PORTUGUESA
5	C	LÍNGUA PORTUGUESA
6	A	LÍNGUA PORTUGUESA
7	C	LÍNGUA PORTUGUESA
8	B	LÍNGUA PORTUGUESA
9	E	LÍNGUA PORTUGUESA
10	A	LÍNGUA PORTUGUESA
11	E	INFORMÁTICA
12	B	INFORMÁTICA
13	E	INFORMÁTICA
14	C	INFORMÁTICA
15	B	INFORMÁTICA
16	A	INFORMÁTICA
17	B	INFORMÁTICA
18	B	INFORMÁTICA
19	E	INFORMÁTICA
20	D	INFORMÁTICA
21	*	LEGISLAÇÃO
22	*	LEGISLAÇÃO
23	B	LEGISLAÇÃO
24	C	LEGISLAÇÃO
25	C	LEGISLAÇÃO
26	C	LEGISLAÇÃO
27	C	LEGISLAÇÃO
28	C	LEGISLAÇÃO
29	D	LEGISLAÇÃO
30	E	LEGISLAÇÃO
31	C	CONHECIMENTOS ESPECÍFICOS
32	A	CONHECIMENTOS ESPECÍFICOS
33	B	CONHECIMENTOS ESPECÍFICOS
34	D	CONHECIMENTOS ESPECÍFICOS
35	E	CONHECIMENTOS ESPECÍFICOS
36	A	CONHECIMENTOS ESPECÍFICOS
37	A	CONHECIMENTOS ESPECÍFICOS
38	B	CONHECIMENTOS ESPECÍFICOS
39	D	CONHECIMENTOS ESPECÍFICOS
40	E	CONHECIMENTOS ESPECÍFICOS